

# Atelier Mémoire

# Bougez vos neurones!

#04



Observez attentivement  
cette scène!



## Atelier #04-1

1 Combien y a-t-il de personnes sur l'illustration?

- 3                       7  
 5                       9

2 Sur l'illustration nous pouvons voir 5 arbres.

- Vrai                       Faux

3 Le dossard numéro 7 est affecté à

- Un homme                       une femme

4 Combien d'hirondelles(s) pouvons nous voir?

- 1                       2  
 3                       4



## Atelier #04-2

1 Combien y a-t-il de femme(s) sur l'illustration?

- 1                       3  
 2                       4

2 Sur l'illustration nous pouvons voir 7 papillons.

- Vrai                       Faux


3 Le dossard numéro 9 est affecté à

- Un homme                       une femme

4 5 personnes portent un short.

- Vrai                       Faux

Observez attentivement la composition.



## Atelier #04-1

1 Sur la composition combien y a-t-il de dromadaire(s)?

- 0                       1  
 2                       3

2 De quelle couleur sont les chameaux?

- Rouge                       Bleu  
 Jaune                       Vert

3 Quel animal n'était pas présent?



4 Dans quelle direction regardent les écureuils?

- Droite    Gauche    Droite et gauche

## Atelier #04-2

1 Sur la composition combien y a-t-il d'âne(s)?

- 1                       3  
 2                       4

2 De quelle couleur sont-ils (les ânes)?

- Rouge                       Bleu  
 Jaune                       Vert

3 Quel animal n'était pas présent?



4 Dans quelle direction regardent les chameaux?

- Droite    Gauche    Droite et gauche



Essayez de mémoriser ces 2 numéros de téléphones.

.

**03 22 96 43 27**

---

**03 15 27 31 64**



## Atelier #04-1

1 Quel nombre n'est présent dans aucun des deux numéros de téléphone?

15     27     31     65

2 Quel nombre est commun aux 2 numéros de téléphone?

21     23     25     27

3 Lequel de ces numéros était dans l'énoncé?

03 16 27 31 65                       03 22 95 43 27  
 03 22 96 43 27                       03 15 27 31 65

## Atelier #04-2

1 Quel nombre n'est présent dans aucun des deux numéros de téléphone?

03     22     33     96

2 Quel nombre est commun aux 2 numéros de téléphone?

03     31     64     96

3 Lequel de ces numéros était dans l'énoncé?

03 15 27 31 64                       03 15 27 30 66  
 05 15 27 31 64                       03 27 15 64 31



Mémorisez ces visages et leurs noms.



**Stéphanie**



**Christelle**



**Jaqueline**



**Adèle**






## Atelier #04-1

### 1 Qui n'a pas de collier?

- Stéphanie
- Christelle
- Jaqueline
- Adèle

### 2 Quel visage n'était pas présent?



### 3 Qui a des lunettes vertes?


- Christelle
- Stéphanie
- Adèle
- Jaqueline

## Atelier #04-2

### 1 Qui a un chapeau?

- Adèle
- Christelle
- Stéphanie
- Jaqueline

### 2 Quel visage n'était pas présent?



### 3 Qui a un collier bleu?

- Christelle
- Stéphanie
- Adèle
- Jaqueline



Observez attentivement cette liste de mots.

CHAMEAU

GARÇON

SATELLITE

TOILETTES

CHENIL

GOUTTIÈRE



## Atelier #04-1

1 Combien y a-t-il de mot(s) au pluriel?

0

1

2

3

2 Combien de mot(s) commencent par la lettre "C"?

1

2

3

4

## Atelier #04-2

1 Combien de mot(s) commencent par la lettre "G"?

1

3

2

4


2 Le mot "hameau" apparaît dans la liste.

Vrai



Faux



Regardez attentivement ces objets!



### Atelier #04-1





1 Quel objet a disparu?

2 Quel objet a disparu?



### Atelier #04-2




1 Quel objet a disparu?





2 Quel objet a disparu?



Mémorisez la position des couples de cartes!



## Atelier #04-1



1 OÙ se trouve le double de cette carte?

- 1
- 3
- 4
- 9


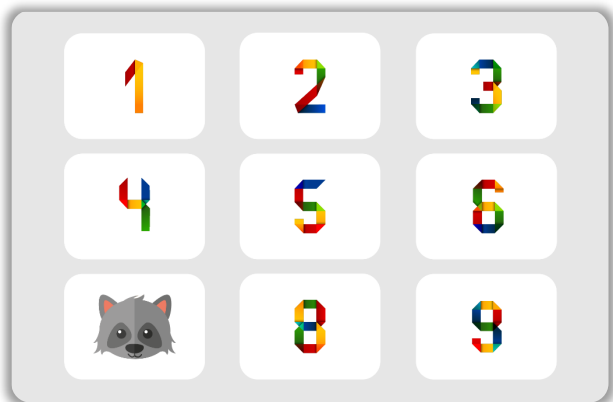
2 OÙ se trouve le double de cette carte?

- 1
- 2
- 5
- 7





## Atelier #04-2



1 Où se trouve le double de cette carte?

- 1
- 3
- 6
- 7

2 Où se trouve le double de cette carte?

- 6
- 7
- 8
- 9



Observez attentivement  
cette scène!



## Atelier #04-1

1 Combien y a-t-il de cadeaux sur l'illustration?

- 2                       4  
 3                       5

2 La petite fille fête ses 6 ans.

- Vrai                       Faux

3 Une girafe observe la scène.

- Vrai                       Faux

4 Combien y a-t-il de chaises?

- 2                       3  
 4                       5



## Atelier #04-2

1 Combien y a-t-il d'enfants sur l'illustration?

- 2                       4  
 3                       5

2 Nous pouvons voir 2 groupes de ballons gonflables.

- Vrai                       Faux

3 Il y a une bannière "Joyeuse fête" sur l'illustration.

- Vrai                       Faux

4 Le petit garçon ne porte pas de chapeau.

- Vrai                       Faux

Regardez attentivement cette page.

lame lame lame lame lame lame lame lame lame lame lame lame lame  
lame lame lame lame lame lame lame lame lame lame lame lame lame  
lame lame lame lame lime lame lame lame lame lame lame lame lame  
lame lame lame lame lame lame lame lame lame lame lame lame lame  
lame lame lame lame lame lame lame lame lame lame lame lame lame  
lame lame lame lame lame lame lame lame lame lame lame lame lame  
lame mail lame lame lame lame lame lame lame lame lame lame lame  
lame lame lame lame lame lame lame lame male lame lame lame lame  
lame lame lame lame lame lame lame lame lame lame lame lame lame  
lame lame lame lame lame lame lame lame lame lame lame lame lame  
lame lame lame lame lame lame lame lame lame lame lame lame lame  
lame lame lame lame lame lame lame lame lame lame lame lame lame  
lame lame lame lame lame lame lame lame lame lame lame lame lame  
lame lame lame lame lame lame lame lame lame lame lame lame lame



## Atelier #04-1

1 Parmi ces mots lequel était présent?

- lime
- miel

- mile
- lieu

2 Combien y a-t-il de mots différents?

- 2
- 3

- 4
- 5

## Atelier #04-2

1 Parmi ces mots lequel était présent?

- mail
- mile

- mule
- miel

2 Combien y a-t-il de mot(s) autre(s) que "lame"?

- 1
- 2

- 3
- 4



Observez attentivement  
cette scène!



## Atelier #04-1

1 Combien y a-t-il d'animaux sur cette scène?

- 8                       12  
 10                      14

2 Il y a un zèbre sur l'illustration.

- Vrai                     Faux

3 Combien y a-t-il de lion(s)?

- 0                         2  
 1                         3

4 Quel animal porte de lunettes.

- La phacochère       Le singe  
 Le lion                 La girafe

## Atelier #04-2

1 Combien y a-t-il d'arbres sur cette scène?

- 2                         3  
 4                         5

2 Le guichet du zoo est ouvert.

- Vrai                     Faux

3 Combien y a-t-il de perroquet(s) dans le ciel?

- 1                         2  
 3                         4

4 La girafe mange de l'herbe.

- Vrai                     Faux





## Lisez attentivement les phrases suivantes.

- Mardi Benjamin est allé au zoo pour observer les ours polaires, mais malheureusement ils n'étaient plus là.
- Jeanne a planifié des vacances en Angleterre. Elle partira en bus au début du mois d'août.
- Pour garder la forme Henri essaye de faire un minimum de 8000 pas par jour.
- Les parents de Marta ont organisé une petite surprise mercredi après-midi pour fêter ses 6 ans.





## Atelier #04-1

1 Marta part en vacances en Angleterre.

Vrai

Faux

2 Henri essaye de faire 8000 pas par jour.

Vrai

Faux

3 Benjamin s'est rendu au zoo pour observer les :

Flamants roses

Aigles royaux

Ours polaires

Tigres blancs

## Atelier #04-2

1 Jeanne part en Angleterre au mois d'août.

Vrai

Faux

2 Marta va bientôt avoir 5 ans.

Vrai

Faux

3 Combien de pas Henri essaye de faire par jour?

5000

6000

7000

8000



Mémorisez ces 2 numéros de téléphones.

03 27 15 64 31

03 43 22 96 27



## Atelier #04-1

1 Lequel de ces numéros était dans l'énoncé?

- 03 43 22 95 24                       03 43 22 96 27  
 03 27 15 65 31                       03 27 96 27 22

2 Quel nombre est commun aux 2 numéros de téléphone?

- 03       25       29       31

3 Quel nombre n'est présent dans aucun des 2 numéros de téléphone?

- 22       31       64       65

## Atelier #04-2

1 Lequel de ces numéros était dans l'énoncé?

- 03 15 27 31 64                       05 27 15 64 31  
 03 27 15 64 31                       03 27 69 22 43


2 Quel nombre est commun aux 2 numéros de téléphone?

- 25       27       43       34

3 Quel nombre n'est présent dans aucun des 2 numéros de téléphone?

- 03       27       32       96





# Merci!

#04

Crédits images : [Freepik](#) / [Vecteezy](#) / [CNFS](#)



*Guillaume GOBERT*  
06/09/2023

