



Introduction

Vous trouverez dans ce document plusieurs exercices destinés à mettre en pratique les recherches sur le web. Ces exercices sont adaptés pour des participants débutants. En ce qui concerne leur difficulté, ils sont classés par ordre croissant et peuvent être si nécessaire modifiés pour qu'ils soient plus adaptés au niveau des participants. Ils ont été réalisés pour prendre en main les outils en ligne tels que les moteurs de recherche, site de cartographie, sites de voyage ou encore certains sites institutionnels.

Tous les exercices suivants seront à faire sur votre ordinateur ou tablette en utilisant le navigateur web de votre choix ou même une application.



Google
Chrome



Microsoft
Edge



Mozilla
Firefox



Apple
Safari



Opera

Bon amusement 😊

Guillaume GOBERT

Contenu

Exercice #01 - Recherches simples.....	2
Exercice #02 - Voyage Voyage.....	3
Exercice #03 - Géographie	4
Exercice #04 - Itinéraire	5

Exercice #01 - Recherches simples

- A l'aide d'un moteur de recherche retrouver les informations suivantes :

1. Quelle est l'**URL** du site internet officiel du château de Chambord ?

↳ Réponse : _____

2. Quel est l'extension du nom de domaine de cette **URL** ? (en général 2 lettres)

↳ Réponse : _____

3. Que signifie l'abréviation de cette extension ?

↳ Réponse : _____

4. Quel est le 16^{ème} président des Etats-Unis d'Amérique ?

↳ Réponse : _____

5. Quel était son parti ?

↳ Réponse : _____

6. Quelles sont ses dates de début et fin de mandat ?

↳ Début : _____ Fin : _____

Rappels :


- **URL** : en anglais **U**niform **R**esource **L**ocator
Elle correspond à l'adresse d'un site WEB (au format https://www...)
- **Extension** : Toutes les URL possèdent une extension comme les fichiers informatique. Elle permet de les différencier.



URL
Wikipedia



Extension de domaine
Techno-Science



Extension de fichier
Journal Du Net

Exercice #02 - Voyage Voyage

- Sur le site [sncf-connect](#) trouvez les horaires des trains **Nantes / Lyon Part Dieu**.

7. Départ : le prochain samedi, par le 1^{er} train de l'après-midi.

↳ Réponse : _____

8. Retour : le lendemain (dimanche), par le 1^{er} train après 10h00.

↳ Réponse : _____

- Sur le site [easyjet](#) trouvez les horaires des vols (A/R) **Lille / Toulouse**.

9. Aller : le prochain dimanche, par le 1^{er} vol.


↳ Réponse : _____

10. Retour : le dimanche suivant, par le dernier vol.

↳ Réponse : _____

Aide :

- **Passagers** : Ne pas s'embêter avec le nombre de passagers, ni l'âge, ou encore le prix des trajets (ce qui nous intéresse ce sont les horaires).
- **Être attentif** : Bien regarder partout avant de cliquer. Penser que son écran n'est peut-être pas assez grand pour tout afficher. (Barres de défilement, molette de la souris...)



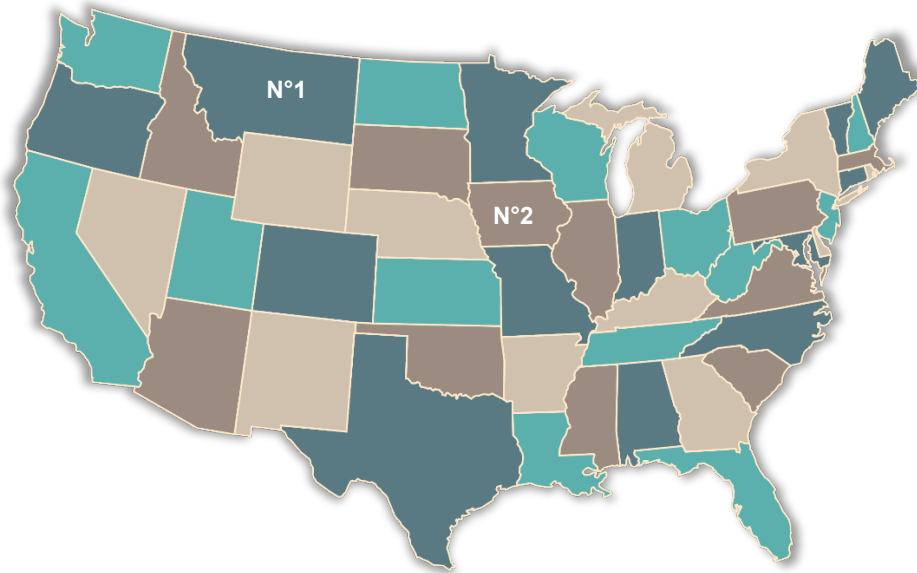
URL
SCNFconnect



URL
EasyJet

Exercice #03 - Géographie

- Grâce à un site de cartographie, retrouvez le nom des états demandés sur cette carte.



11. Etat N°1 : _____

12. Etat N°2 : _____

13. Quelle est la forme de la propriété située aux coordonnées suivantes ?

Latitude : -33.867638 - Longitude : -63.980776

↳ Réponse : _____

14. A l'adresse suivante se trouvent 2 piscines de formes particulières, lesquelles ?

1821 W Buena Vista Dr, Kissimmee, FL 34747, États-Unis

↳ Réponses : _____ / _____


Aide : Penser aux différents modes d'affichage (Relief, satellite...)



Google maps



OpenStreetMap

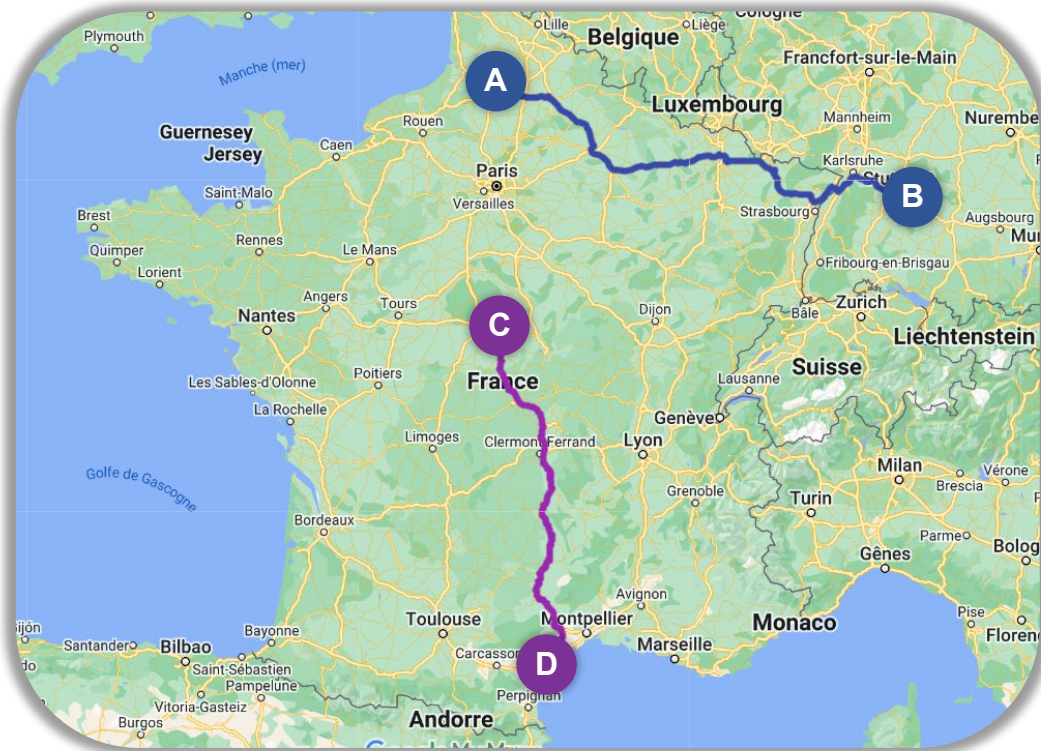


ViaMichelin



Exercice #04 - Itinéraire

- Toujours grâce à un plusieurs sites de cartographie donner les distances de voyages des 2 parcours suivants.



A : 1 rue Faidherbe, Corbie

B : Ulrichstraße 1, Esslingen am Neckar

C : 2 rue d'Auron, Bourges

D : 10 rue Etienne Jodelle, Bézier

15. Distance **A → B** ?

↪ Gmaps : _____ km Mappy : _____ km ViaMichelin : _____ km

16. Distance **C → D** ?

↪ Gmaps : _____ km Mappy : _____ km ViaMichelin : _____ km